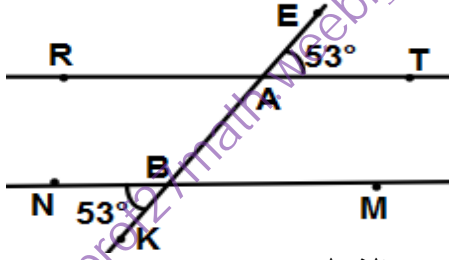
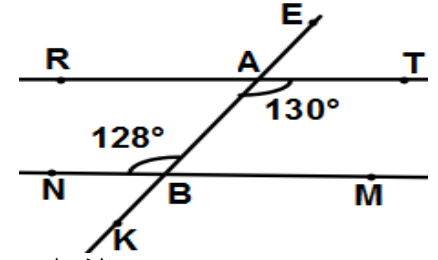


التمرين الثاني :

(1) هل المستقيمان (RT) و (NM) متوازيان في كل حالة؟ مع التبرير.



الشكل 2



الشكل 1

.....

.....

.....

.....

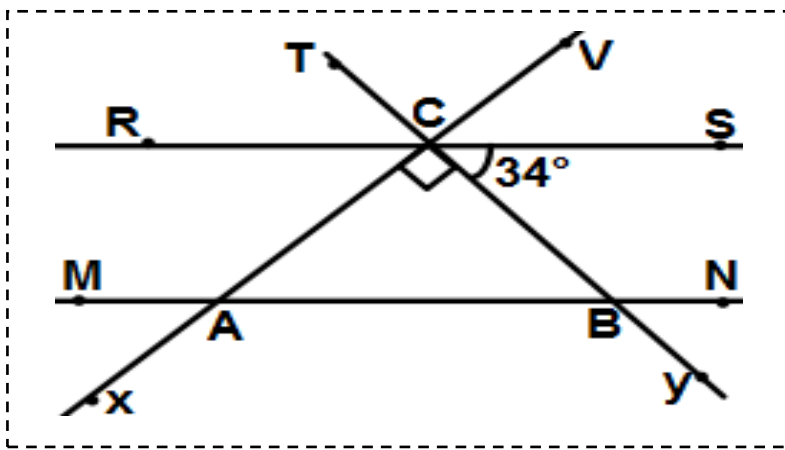
.....

.....

2- المستقيمان (RS) و (MN) متوازيان.

(1) أحسب أقياس الزوايا التالية مع التبرير:

\widehat{MAX} ; \widehat{ABC} ; \widehat{TCV} ; \widehat{VCS}



.....

.....

.....

.....

.....

.....

.....

.....

.....

Belhocine : <https://prof27math.weebly.com/>

بالتوفي

الأستاذ: بن ناصر

يأتي النجاح مع كلمة أستطيع , ويأتي الفشل مع كلمة لا أستطيع.