

التمرين الاول (6 ن)

اشترى احمد وعلي هدية بمبلغ 750DA لاهدائها لزميلهم محمد . دفع احمد $\frac{3}{5}$ من المبلغ ودفع علي الباقي .

1- احسب المبلغ الذي دفعه احمد .

2- ما هو الكسر الذي يمثل المبلغ الذي دفعه علي .

3- احسب المبلغ الذي دفعه علي .

التمرين الثاني (7 ن)

1- انشئ مستقيما مدرجا حيث وحدة الطول 1cm .

علم النقط : $A(\frac{47}{10})$, $B(\frac{25}{10})$, $C(\frac{6}{10})$

ب - جد 3كسور تساوي الكسر $\frac{9}{8}$.

ج - اختزل كلا من الكسر من $\frac{55}{30}$ ، $\frac{27}{42}$.

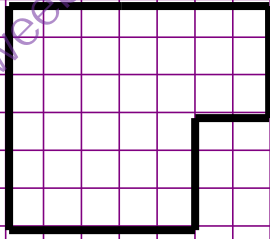
التمرين الثالث (7 ن)

كم تساوي مساحة كل من الاشكال التالية بالوحدة المبينة (الـ cm^2) . قارن بينها .

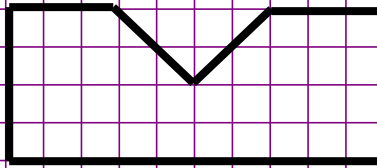
قارن بين محيطاتها .

على مرصوفة انشئ شكلا له نفس المساحة .

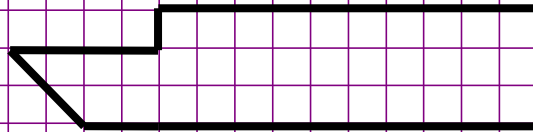
<https://prof27math.weebly.com/>



1



12



3



1cm²