




المتوسطة :	السنة الدراسية : 2017/2016
المستوى : السنة أولى متوسط	المدة الزمنية : 1 س

اللقب :	الاسم :	القسم :
---------	---------	---------

التمرين الاول : أكمل الجدول التالي :

			الشكل
			التعبير بكسر عن الجزء الملون
			كتابة الكسر بالحروف

التمرين الثاني : أكمل ماييلي حسب المثال الاول :

$$245,9 = (2 \times 100) + (4 \times 10) + (5 \times 1) + (9 \times 0.1)$$

$$\dots\dots\dots = (5 \times 1000) + (7 \times 100) + (8 \times 1) + (4 \times 0.1) + (4 \times 0.01)$$

$$899,31 = \dots\dots\dots + \dots\dots\dots + \dots\dots\dots + \dots\dots\dots + \dots\dots\dots$$

التمرين الثالث :

ارسم المستقيم (F) ثم عين عليه النقطتين A و B بحيث يبعدان عن بعضهما ب 6cm

انشئ النقطة O منتصف القطعة [AB] ثم أرسم المستقيم (D) الذي يعامد (F) في النقطة O

